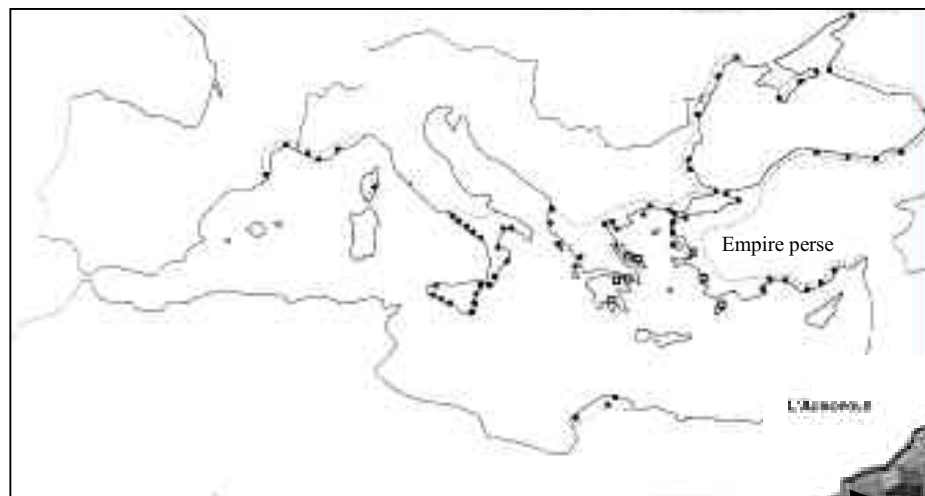
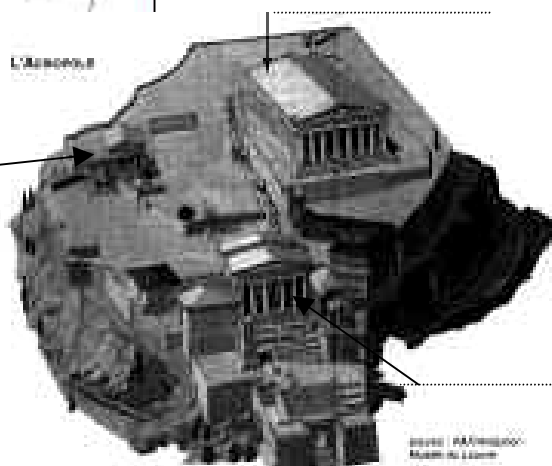


Devoir H4 – La Grèce antique – 6^{ème} 4
NIVEAU MINI

Exercice 1 : Complétez la carte en suivant les consignes : (2 points)



1. Coloriez en rouge la Grèce d'Europe ; (1 pt)
2. Ecrivez au bon emplacement les mots suivants en minuscules bleues : Mer Méditerranée ; Athènes (1 pt)



Exercice 2 : Observez le plan de l'Acropole ci-contre et répondez aux questions : (6 points)

1. Ecrivez au bout de la flèche qui convient le nom du temple : le Parthénon. (1 pt)
2. Dans quelle ville se trouve la colline de l'Acropole en Grèce ? (1 pt)
3. Les Grecs adoraient-ils un ou plusieurs dieux ? (1 pt)
4. Donnez le nom d'un dieu et d'une déesse. (2 pts)
5. Complétez la bulle des deux personnages suivants en précisant s'il s'agit d'un dieu grec ou égyptien : (1 pt)



Je suis un dieu

Je suis un dieu



Vous pouvez compléter les bulles avec des informations dont vous vous rappelez (nom, attribut, fonction...) : BONUS !

Exercice 3 : le pouvoir en Grèce et à Athènes au Vème siècle avant Jésus-Christ. (4 points)

1. Soulignez la bonne réponse :
 - Les Grecs étaient organisés : en cités ; en empire ; en royaume ; en République ? (0,5 pt)
 - La cité, c'est : une ville ; le quartier d'une ville ; une campagne ; une ville et sa campagne ? (0,5 pt)
 - Au Vème siècle, la Grèce est dominée par : Sparte ; Athènes ; Phocée ; Troie ? (0,5 pt)
 - Lors des guerres médiques, les Grecs se sont battus contre : les Perses ; les Gaulois ; les Egyptiens ? (0,5 pt)
2. Complétez le texte à trous en plaçant les mots suivants : *citoyens, démocratie, élection, non-citoyens, ecclesia, stratège*. (1,5 pt)

« Au Vème siècle, les Athéniens sont gouvernés selon un régime politique qui s'appelle la c'est-à-dire un gouvernement où le pouvoir appartient aux qui peuvent participer aux (voter la guerre par exemple) lors de la réunion à l'..... Périclès est un grand qui a gouverné la cité pendant plusieurs années de suite. Mais les femmes, les esclaves et les étrangers sont »

3. Lisez le texte puis répondez à la question :

L'enrichissement d'Athènes

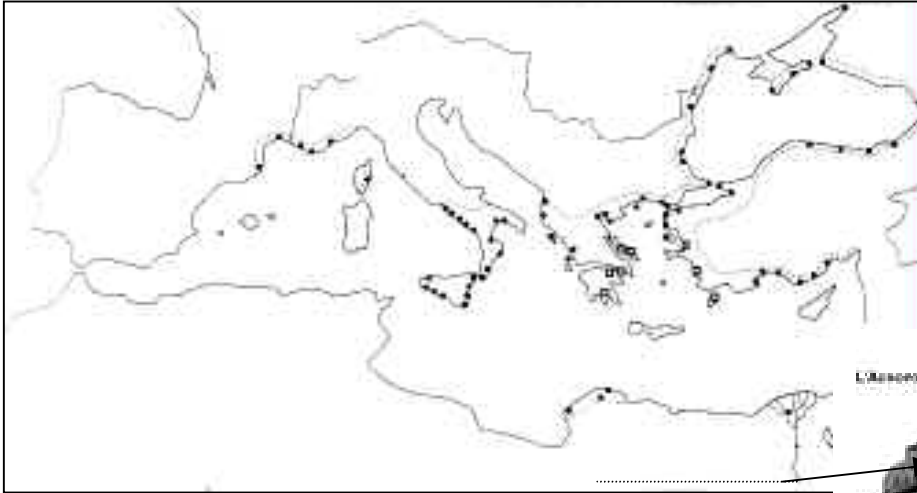
« Les ennemis de Périclès lui reprochaient d'avoir transporté à Athènes le trésor commun des Grecs. Ils disaient que les alliés d'Athènes se sentaient outragés de voir que l'argent versé pour la défense de la Grèce contre les Barbares, servait à embellir la ville de statues et de temples coûteux. »

D'après Plutarque, Ier-IIème siècle après Jésus-Christ

→ Que devaient construire les Athéniens avec le Trésor ? (0,5 pt)


Devoir H4 – La Grèce antique – 6^{ème} 4
NIVEAU MOYEN

Exercice 1 : Complétez la carte en respectant les consignes : (3 points)



- Placez sur la carte les mots suivants : Grèce d'Europe, Grèce d'Asie, Empire perse, Mer Méditerranée, Marseille (ou Massalia), Sparte, Athènes. (1,75 pt)
- Coloriez de deux couleurs différentes sur la carte et dans la légende : (1,25 pt)

- la Grèce d'origine ;
- les pays colonisés par les Grecs.



Exercice 2 : Observez le plan de l'Acropole ci-contre et répondez aux questions : (5 points)

- Ecrivez au bout de la flèche qui convient le nom du temple : le Parthénon. (0,5 pt)
- A quelle déesse ce temple est-il dédié ? (0,5 pt)
- Dans quelle ville se trouve la colline de l'Acropole en Grèce ? (0,5 pt)
- La religion grecque est-elle monothéiste ou polythéiste ? (0,5 pt)
- Parmi les personnages ci-dessous, dites s'il s'agit d'un dieu grec ou d'un dieu égyptien et donnez le nom du dieu grec : (3 pts)



Exercice 3 : le pouvoir en Grèce et à Athènes au Vème siècle avant Jésus-Christ. (7 points)

- Soulignez la bonne réponse :
 - La cité, c'est : une ville ; le quartier d'une ville ; une campagne ; une ville et sa campagne ? (0,5 pt)
 - Au Vème siècle, la Grèce est dominée par : Sparte ; Athènes ; Phocée ; Troie ? (0,5 pt)
 - Les cités fondées par les Grecs autour de la Méditerranée s'appellent : des métropoles ; des colonies ? (0,5 pt)
 - Homère a écrit : La vie des hommes illustres ; les Histoires des Grecs ; l'Iliade ? (0,5 pt)
- Lisez le texte puis répondez aux questions :

Le régime politique d'Athènes

« Athènes n'est pas au pouvoir d'un seul homme. Son peuple gouverne. Ses magistrats sont élus pour un an par les citoyens. Chacun est libre de présenter à l'Ecclesia un projet de loi pour le bien d'Athènes. »

Euripide, *Les Suppliants*, pièce de théâtre écrite au Vème siècle avant Jésus-Christ

- D'après vos connaissances, comment appelle-t-on le régime politique d'Athènes ? Soulignez la phrase du texte qui donne la définition de ce gouvernement. (1 pt)
 - Les magistrats ont-ils un pouvoir illimité ? (1 pt)
 - Au Vème siècle, qui est citoyen ? (barrez les réponses inutiles) : les femmes ; les enfants ; les métèques ; les esclaves ; les hommes libres athéniens. (1 pt)
- Lisez le texte puis répondez aux questions :

L'enrichissement d'Athènes

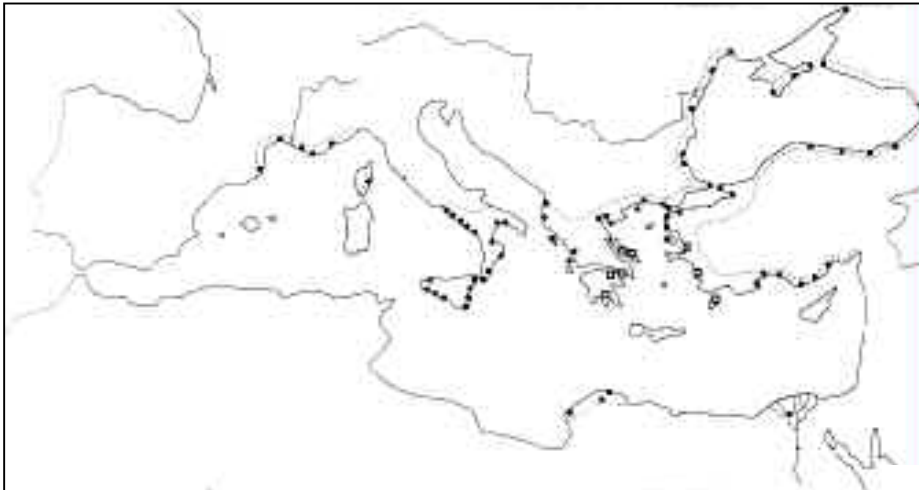
« Les ennemis de Périclès lui reprochaient d'avoir transporté à Athènes le trésor commun des Grecs. Ils disaient que les alliés d'Athènes se sentaient outragés de voir que l'argent versé pour la défense de la Grèce contre les Barbares, servait à embellir la ville de statues et de temples coûteux. »

D'après Plutarque, Ier-IIème siècle après Jésus-Christ

- Que devaient construire les Athéniens avec le Trésor ? (Utilisez un vocabulaire précis) (1 pt)
- Qui sont les *Barbares* dont parle le texte ? (1 pt)

Devoir H4 – La Grèce antique – 6^{ème} 4
NIVEAU COSTAUD

Exercice 1 : Complétez la carte en respectant les consignes : (3,5 points)

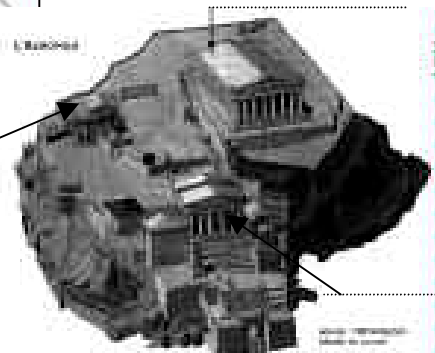


- Placez sur la carte les mots suivants : *Grèce d'Europe, Grèce d'Asie, Empire perse, Mer Méditerranée, Mer Egée, Marseille (ou Massalia), Delphes, Sparte et Athènes.* (2,25 pts)
- Coloriez de deux couleurs différentes sur la carte et dans la légende : (1,25 pt)

- La Grèce d'origine
- Les pays colonisés par les Grecs

Exercice 2 : Observez le plan de l'Acropole ci-contre et répondez aux questions : (7,5 points)

- Ecrivez au bout de la flèche qui convient le nom du temple : *le Parthénon.* (1 pt)
- A quelle déesse ce temple est-il dédié ? (1 pt)
- Que contenait-il ? (1 pt)
- Quel magistrat l'a fait construire ? (0,5 pt)
- La religion grecque est-elle monothéiste ou polythéiste ? (0,5 pt)
- Parmi les personnages ci-dessous, dites s'il s'agit d'un dieu grec ou d'un dieu égyptien et donnez le nom / l'attribut / la fonction du dieu grec : (3,5 pts)



Exercice 3 : le pouvoir en Grèce et à Athènes au Vème siècle avant Jésus-Christ. (9 points)

- Soulignez la bonne réponse :
 - La cité, c'est : une ville ; le quartier d'une ville ; une campagne ; une ville et sa campagne ? (0,5 pt)
 - Au Vème siècle, la Grèce est dominée par : Sparte ; Athènes ; Phocée ; Troie ? (0,5 pt)
- Lisez le texte puis répondez aux questions :

Le régime politique d'Athènes

« Athènes n'est pas au pouvoir d'un seul homme. Son peuple gouverne. Ses magistrats sont élus pour un an par les citoyens. Chacun est libre de présenter à l'Ecclesia un projet de loi pour le bien d'Athènes. »

Euripide, *Les Suppliants*, pièce de théâtre écrite au Vème siècle avant Jésus-Christ

- D'après vos connaissances, comment appelle-t-on le régime politique d'Athènes ? Soulignez la phrase du texte qui donne la définition de ce gouvernement. (1 pt)
 - D'après le texte et vos connaissances, quels sont les pouvoirs de l'Ecclesia ? (2 pts)
 - Les magistrats ont-ils un pouvoir illimité ? Justifiez. (1 pt)
 - Ce type de gouvernement est-il parfait ? Justifiez votre réponse. (1 pt)
- Lisez le texte puis répondez aux questions :

L'enrichissement d'Athènes

« Les ennemis de ce stratège lui reprochaient d'avoir transporté à Athènes le trésor commun des Grecs. Ils disaient que les alliés d'Athènes se sentaient outragés de voir que l'argent versé pour la défense de la Grèce contre les Barbares, servait à embellir la ville de statues et de temples coûteux. »

D'après Plutarque, Ier-IIème siècle après Jésus-Christ

- Que devaient construire les Athéniens avec le Trésor ? (Utilisez un vocabulaire précis) (1 pt)
- Qui sont les *stratèges* à Athènes ? (1 pt)
- Qui sont les Barbares dont parle le texte ? (1 pt)